



MATERIA	PROVA SCRITTA 01	DATA	CLASSE	ALLIEVO	N
PROGETTAZIONE, COSTRUZIONI E IMPIANTI	ANALISI CARICHI	04.11.2019	IV <sup>a</sup> B		

Rispondere a due dei tre quesiti proposti

- Eseguire l'analisi dei carichi della muratura della figura. 1, assumendo per i giunti di malta uno spessore nominale di 1.00 cm;
- Eseguire l'analisi dei carichi del solaio in figura. 2, assumendo un sovraccarico categoria .....
- Calcolare l'azione della neve sulla copertura dell'edificio in figura. 3, posto che si debba edificare nel comune di ..... (as=..... m)

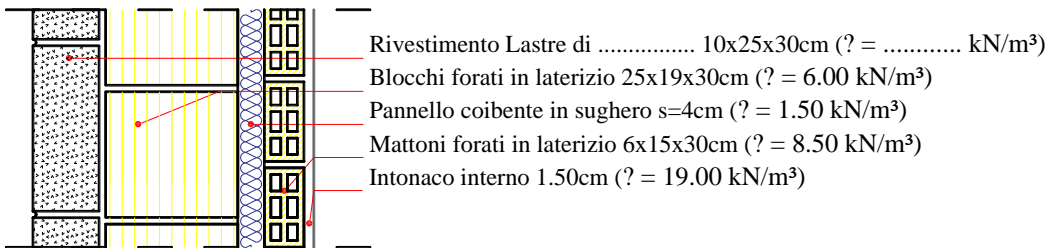


Figura 1

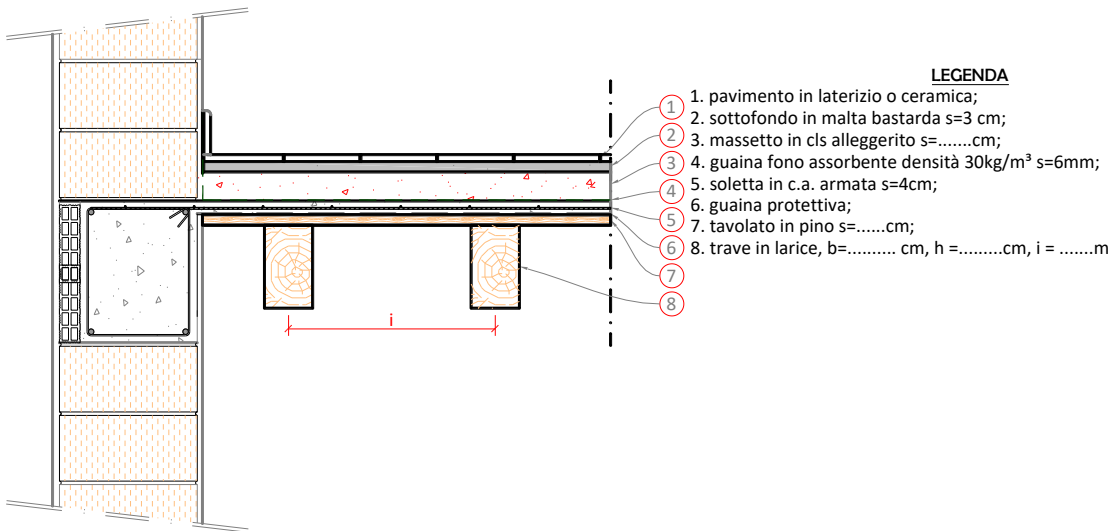


Figura 2

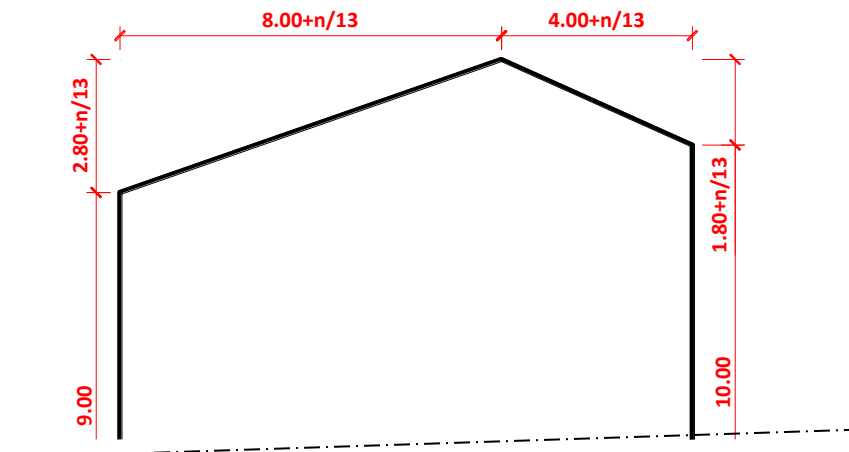


Figura 3

## Griglia di valutazione

INDICATORI	DESCRITTORI	non svolto	scarso	Insufficiente	Sufficiente	discreto	ottimo	n.01	n.02	n.03	Tot
Correttezza e proprietà del linguaggio specifico	Conoscenze dei contenuti	0	0.5÷1	1	1÷1.5	1.5÷2	2				
	Padronanza nell'uso delle corrette procedure di calcolo	0	0.5÷1	1	1÷1.5	1.5÷2	2÷3				
	Correttezza e completezza delle soluzioni proposte	0	1	2	3	4	5				